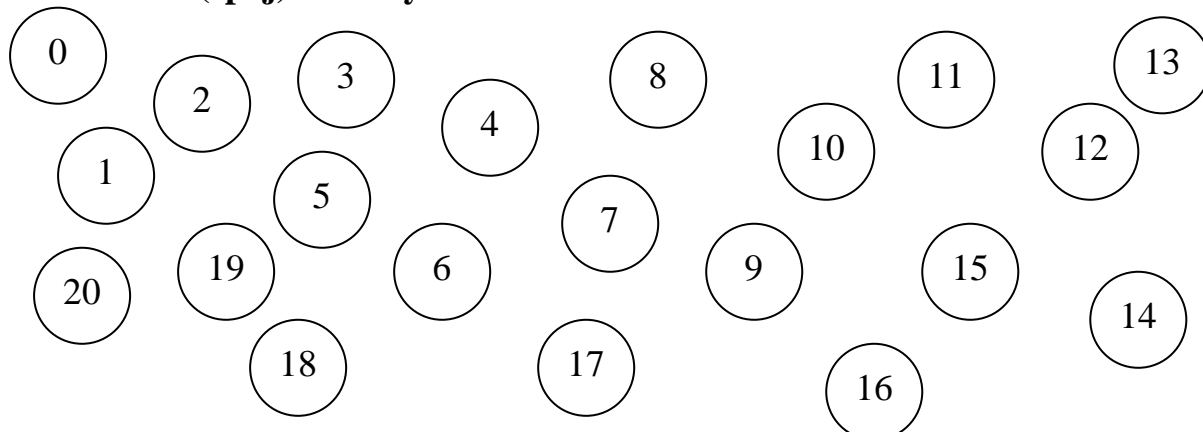


Hrajeme si s korálky

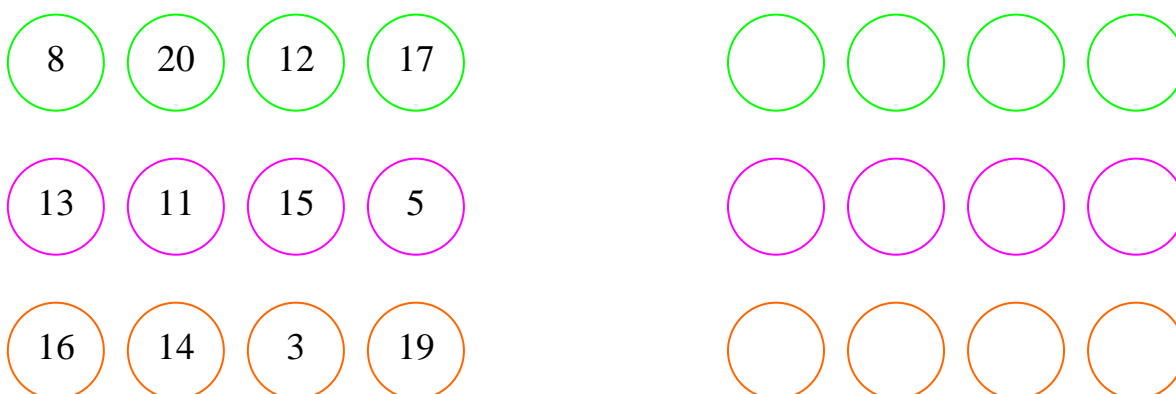
1. Navlékni (spoj) korálky od 0 do 20:




2. Napiš do korálků chybějící čísla od 11 – 20:



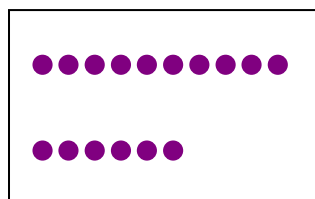
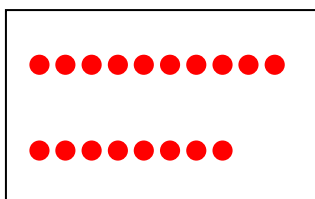
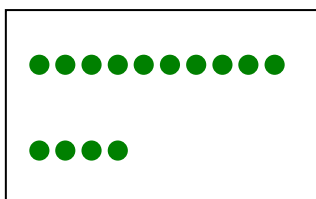
3. Seřad' korálky v řádku od nejmenšího čísla po největší:



4. Vybarvi pastelkou třetí, sedmý, dvanáctý, čtrnáctý, osmnáctý a dvacátý korálek:



5. Kolik je tu korálků? Spoj korálky se správným počtem:



12

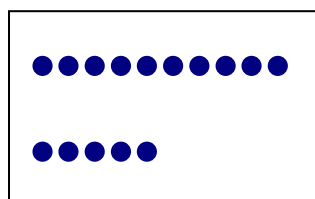
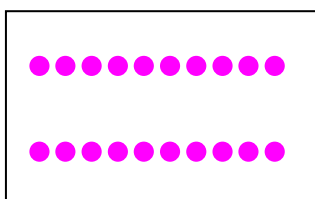
14

15

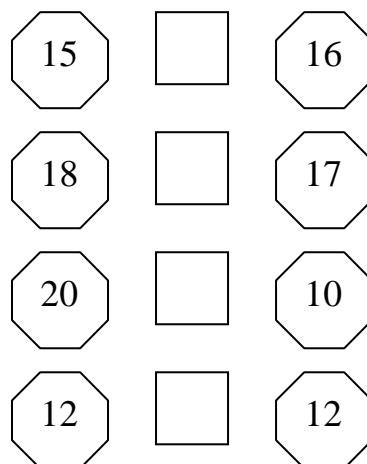
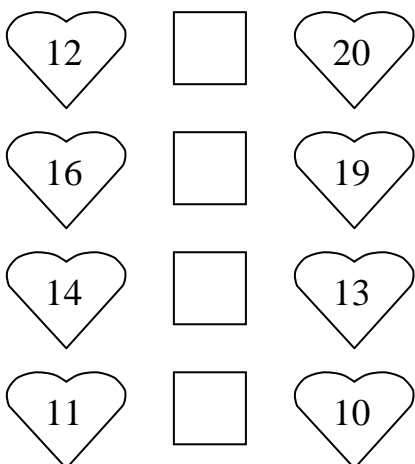
16

18


20



6. Porovnej počet korálků a doplň do čtverce znaménka $<$, $>$, $=$:



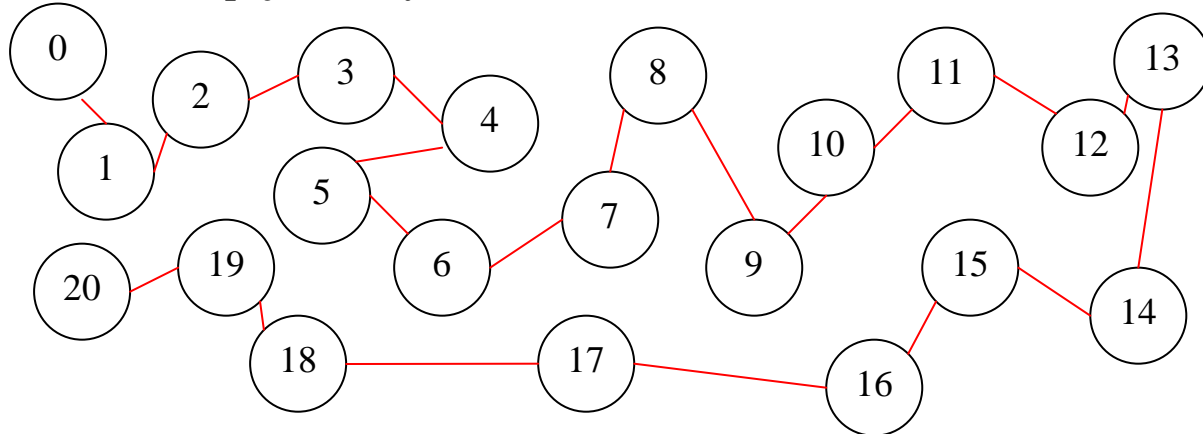
Protože jsi hezky pracoval(a), můžeš si za odměnu tyhle korálky vybarvit.



VÝSLEDKY

Hrajeme si s korálky

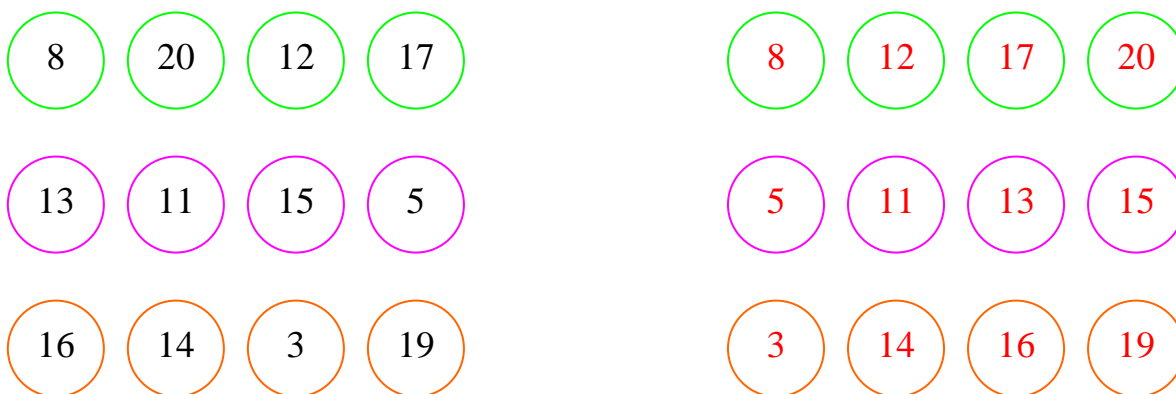
1. Navlékni (spoj) korálky od 1 do 20:



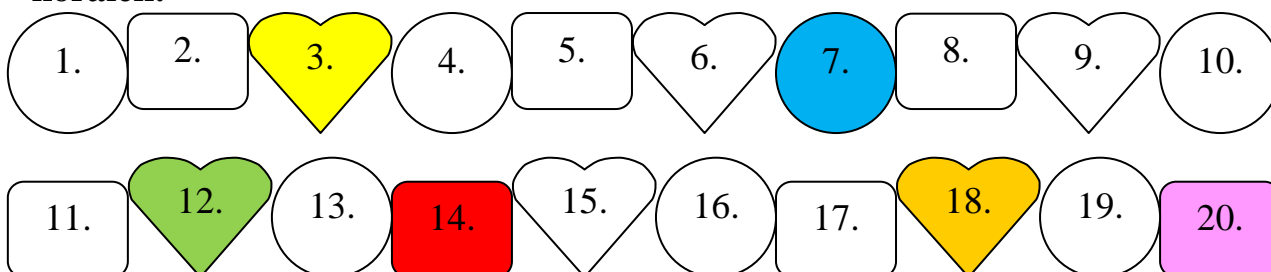
2. Napiš do korálků chybějící čísla od 11 – 20:



3. Seřad' korálky v řádku od nejmenšího čísla po největší:



4. Vybarvi pastelkou třetí, sedmý, dvanáctý, čtrnáctý, osmnáctý a dvacátý korálek:



5. Kolik je tu korálků? Spoj korálky se správným počtem:

The boxes contain the following number of beads:

- Box 1 (Green): 12 beads (10 in top row, 2 in bottom row)
- Box 2 (Red): 16 beads (10 in top row, 6 in bottom row)
- Box 3 (Purple): 18 beads (10 in top row, 8 in bottom row)
- Box 4 (Orange): 14 beads (10 in top row, 4 in bottom row)
- Box 5 (Pink): 20 beads (10 in top row, 10 in bottom row)
- Box 6 (Dark Blue): 15 beads (10 in top row, 5 in bottom row)

The numbers in the boxes are: 12, 14, 15, 16, 18, 20.

Connections (indicated by red lines):

- Box 1 (12 beads) connects to 12.
- Box 2 (16 beads) connects to 16.
- Box 3 (18 beads) connects to 18.
- Box 4 (14 beads) connects to 14.
- Box 5 (20 beads) connects to 20.
- Box 6 (15 beads) connects to 15.

6. Porovnej počet korálků a doplň do čtverce znaménka $<$, $>$, $=$:

12	$<$	20	15	$<$	16
16	$<$	19	18	$>$	17
14	$>$	13	20	$>$	10
11	$>$	10	12	$=$	12

Protože jsi hezky pracoval(a), můžeš si za odměnu tyhle korálky vybarvit.

