

ZÁVĚREČNÁ KONTROLNÍ PRÁCE Z M – 7.ročník

Jméno:.....

1. Napiš 5 čísel větších než 12 500:.....

Napiš 5 čísel menších než 9 800:.....

Doplň správně čísla hned před a hned za čísla:

___ < 555 < ___ ___ < 6 999 < ___ ___ < 500 000 < ___

2. Seřaď čísla podle velikosti: 329, 100 807, 100 087, 342, 100 800,

.....
Modrou barvou vyznač **jednotky**.

Zelenou vyznač **sta**.

Červenou vyznač **desetitisíce**.

3 .Vypočítej:

a) součet čísel 7 985 a 29 605

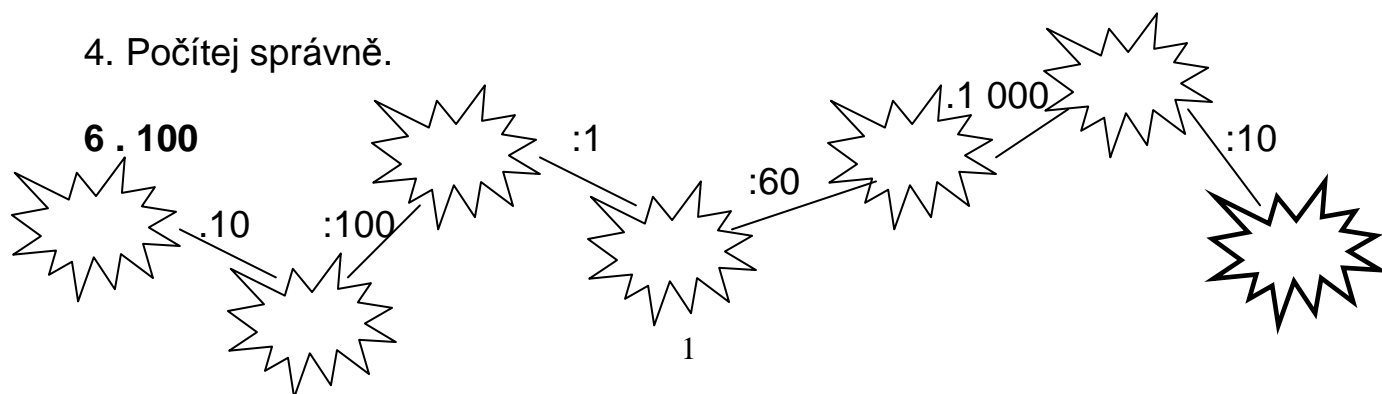
b) rozdíl čísel 179 628 a 99 253

c) součin čísel 236 a 28 děl dvěma

d) podíl čísel 64 a 8 zvětši o 4 576

.....
.....
.....
.....
.....
.....
.....
.....
.....

4. Počítej správně.



5. Zapiš správně pod sebe a vypočítej:

$$374\,584 + 15\,404 + 524\,215$$

$$786\,345 - 980$$

.....
.....
.....
.....
.....

.....
.....
.....
.....
.....

Výsledky zaokrouhli na statisíce.

$$4\,720 : 34$$

$$7\,192 : 7$$

.....
.....
.....
.....
.....
.....
.....
.....

.....
.....
.....
.....
.....
.....
.....
.....

Výsledky zaokrouhli na tisíce.

6. Michal začal chodit na brigádu. Každý měsíc si vydělal 6 500 Kč. Kolik korun si vydělal za 11 měsíců?

Odpověď:.....

7. Děľ písemně a proved' zkoušku:

$$465 : 5 =$$

Zk:

$$1\,356 : 40 =$$

Zk:

8. Vypočítej průměrnou výšku žáků ve své třídě. Můžeš použít kalkulačku.

.....

.....

.....

.....

.....

.....

.....

.....

.....

.....

.....


.....

Odpověď:.....

9. Pan Benda se rozhodl postavit si nový plot kolem svého pozemku. Pozemek má tvar obdélníka o rozměru 32 m a 45 m. Kolik metrů pletiva bude pan Benda potřebovat k oplocení svého pozemku?

Odpověď:.....

10. Narýsuj:

 CDE
c = 6 cm
d = 45 mm
e = 5 cm

/AB/ = 67 mm
/CD/ = 2 cm a 5 mm

VÝSLEDKY - ZÁVĚREČNÁ KONTROLNÍ PRÁCE Z M – 7.ročník

Jméno:.....

1. Napiš 5 čísel větších než 12 500:.....

Napiš 5 čísel menších než 9 800:.....

Doplň správně čísla hned před a hned za čísla:

554 < 555 < 556 6 998 < 6 999 < 7 000 499 999 < 500 000 < 500 001

2. Seřaď čísla podle velikosti: 329, 100 807, 100 087, 342, 100 800,
329, 342, 100 087, 100 800, 100 807

.....
Modrou barvou vyznač **jednotky**.

Zelenou vyznač **sta**.

Červenou vyznač **desetitisíce**.

3 .Vypočítej:

a) součet čísel 7 985 a 29 605 37 590

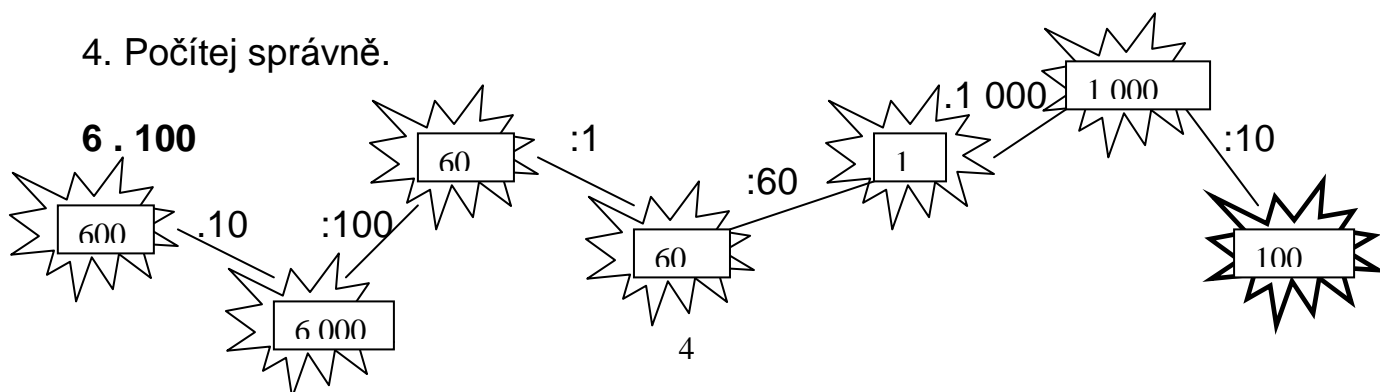
b) rozdíl čísel 179 628 a 99 253 80 375

c) součin čísel 236 a 28 děl dvěma 3 304

d) podíl čísel 64 a 8 zvětši o 4 576 4 584

.....
.....
.....
.....
.....
.....
.....
.....
.....

4. Počítej správně.



5. Zapiš správně pod sebe a vypočítej:

$$374\,584 + 15\,404 + 524\,215$$
$$914\,203$$

.....
.....
.....
.....

Výsledky zaokrouhli na statisíce.

$$4\,720 : 34$$
$$160\,480$$

.....
.....
.....
.....
.....
.....

Výsledky zaokrouhli na tisíce.

$$786\,345 - 980$$
$$785\,365$$

.....
.....
.....
.....

$$7\,192 : 7$$
$$50\,344$$

.....
.....
.....
.....
.....
.....

6. Michal začal chodit na brigádu. Každý měsíc si vydělal 6 500 Kč. Kolik korun si vydělal za 11 měsíců?

$$6\,500 \cdot 11 = 71\,500$$

Odpověď: Za 11 měsíců si vydělal 71 500 Kč.

7. Děľ písemně a proved' zkoušku:

$$465 : 5 = 93$$
$$\begin{array}{r} 15 \\ 0 \end{array}$$

$$\begin{array}{r} \text{Zk: } 93 \\ . 5 \\ \hline 465 \end{array}$$

$$1\,356 : 40 = 33$$
$$\begin{array}{r} 156 \\ 36 \end{array}$$

$$\begin{array}{r} \text{Zk: } 33 \\ . 40 \\ \hline 1320 \\ 36 \\ \hline 1356 \end{array}$$

8. Vypočítej průměrnou výšku žáků ve své třídě. Můžeš použít kalkulačku.

.....

.....

.....

.....

.....

.....

.....

.....

.....

.....

.....

Odpověď:

9. Pan Benda se rozhodl postavit si nový plot kolem svého pozemku. Pozemek má tvar obdélníka o rozměru 32 m a 45 m. Kolik metrů pletiva bude pan Benda potřebovat k oplocení svého pozemku?

$$o = (a + b) \cdot 2$$

$$o = (32 + 45) \cdot 2$$

$$o = 77 \cdot 2$$

$$o = 154 \text{ m}$$

Odpověď: Pan Benda bude potřebovat 154 m pletiva.

10. Narýsuj:

 CDE

$$c = 6 \text{ cm}$$

$$d = 45 \text{ mm}$$

$$e = 5 \text{ cm}$$

$$/AB/ = 67 \text{ mm}$$

$$/CD/ = 2 \text{ cm a } 5 \text{ mm}$$